

التصحيح النموذجي

السنة: الثانية ليسانس

السداسي: الثاني

مقياس: الكرة الطائرة

بالقاعة رقم : 01

على الساعة: 09.00 إلى 10.30

2018/10/23

يوم الثلاثاء

إعادة النظر

التمرين الأول :

س1- ضع دائرة حول الاجابة الصحيحة :9 نقاط

1- قياسات ملعب الكرة الطائرة هي :

ج- 15* 6

ب- 16* 8

أ- 18* 9

2- عدد لاعبين كرة الطائرة هو:

ج- 12

ب- 15

أ- 16

3- عدد الحكام في منطقة اللعب في كرة الطائرة هو

ج- أربعة

ب- ثلاث

أ- اثنان

4- مكتشف الكرة الطائرة هو:

ج- هولجر نيلسن

ب- وليام مورجان

أ- جيمس نايسميث

5- اكتشفت الكرة الطائرة سنة :

ج- 1898

ب- 1896

أ- 1895

6- إرتفاع الشبكة عند الرجال:

ج- 2.44

ب- 2.43

أ- 2.42

7- إرتفاع الشبكة عند النساء:

ج- 2.25

ب- 2.24

أ- 2.22

8- يجب أن يضرب المرسل الكرة قبل فوات:

ج- 8ثا

ب- 9ثا

أ- 10ثا

9- وقت في مستقطع عند النقطة:

ج- 8و16

ب- 8و15

أ- 16و22

س2 - أكتب المقاييس القانونية التالية:.....4.5 نقاط

10 - طول العصا الهوائية يبلغ..... 1.80 متر.....قطرها..... 10 ملم.....

11- جميع خطوط الملعب بعرض..... 5 سم.....وباللون..... فاتح.....

12- تكون العصا الهوائية باللون.....الأحمر.....واللون.....الأبيض.....

13- يبلغ وزن الكرة..... 260-280 جرام.....ومحيطها..... 65-67 سم.....

14- يمتد خط الهجوم بخطوط متقطعة طولها..... 15 سم.....

س3 - أذكر خمسة أخطاء في الكرة الطائرة:..... 2.5 نقاط

15- خطأ لمس الكرة مرتين متتاليتين من نفس اللاعب

16- القيام بأربع تمريرات

17- خطأ الدوران

18- لمس الشبكة

19- لمس الخط أثناء أداء الارسال

س4- ضع كل رقم عند الصورة التي تناسبه: 4 نقاط

1- نهاية الشوط .

2- تبديل الملعب

3- حمل الكرة اثناء التداول .


4- خروج الكرة بعد لمس اللاعب .

5- أربع لمسات متتالية للفريق .

6- لمستين متتالية من نفس اللاعب .

7- الكرة خارج .

8- خطأ دوران .




4




7



3



6




5

2



1



8

